

651

# Mathe auf dem Bauernhof

1. Klasse



netzwerk  
lernen  
**häuschkaverlag**  
*einfach besser lernen*

zur Vollversion

<b>Die Zahlen bis 10</b>		Rechenkette	41
Zahlen von 1 bis 10	1	Zahlenreihen rechnen	42
Wochentage zählen	2	Zahlenrätsel	44
Malen nach Zahlen	3	Tausch- und Umkehraufgaben	45
Zählen/Mengen erfassen	4	Rechenbild	46
Zahlen entdecken	8	Rechenrätsel	47
Zahlenreihen	10	Rechnungen vergleichen	48
Zwei oder vier Beine?	11	Unterschiede wahrnehmen	49
Zahlen suchen	12	Sachaufgaben	50
Mengen ergänzen/darstellen	13	<b>Die Zahlen bis 20</b>	
Würfelbilder	17	Zahlen darstellen	52
Mengen bündeln	18	Malen nach Zahlen	53
Zahlen zerlegen	20	Zahlen schreiben	54
Größen vergleichen	21	Bis 20 zählen	55
Zahlenreihen ergänzen	22	Zahlenstrahl	56
Mengen/Zahlen vergleichen	23	Zahlenreihen	57
<b>Flächenformen kennenlernen</b>		<b>Rechnen bis 20</b>	
Flächenformen	26	Ergänzen bis 20	58
Muster fortsetzen	28	Kettenrechnung	59
Sudoku	29	Malen nach Zahlen	60
<b>Rechnen bis 10</b>		Sachaufgabe/Verdoppeln	61
Plusaufgaben	30	Halbieren und rechnen	62
Minusaufgaben	33	Aufgaben vergleichen	63
Rechnen mit Geld	34	Sachaufgaben	64
Rechnen zu Bildern	35	Rechentürme	66
Rechnen mit Würfeln	36	Tabelle lesen	67
Minusaufgaben	37	Verabschiedung	68
Aufgabenfamilien	38	<b>Herausnehmbarer Lösungsteil</b>	
Ergänzen bis 10	39	und <b>Rechenspiel</b> nach Seite	34
Rechnen zu Bildern	40		

Hauschka Lernhilfen, Heft 651

© 2012 Hauschka Verlag

Ernst-Platz-Straße 28, 80992 München  
Postfach 50 03 45, 80973 München

Telefon +49 89 1416013

Fax +49 89 1416015

netzwerk  
lernen  
www.hauschkaverlag.de  
www.hauschkaverlag.de

**Verfasserin:** Ingrid Hauschka-Bohmann, Fischbachau

**Lektorat:** Adolf Hauschka, München

**Illustrationen:** Florian Huber, Gisela Specht

**Gestaltung und Layout:** Gregor Schmidpeter, Gauting

**Druck:** Druckerei & Verlag Steinmeier, Deiningen




Printed in Germany. Alle Rechte vorbehalten.

ISBN 978-3-88


zur Vollversion



► Rechne zu den Bildern. Male dazu, wenn du willst.




$$6 + \underline{\quad} = \underline{\quad}$$



$$\underline{\quad} + \underline{\quad} = \underline{\quad}$$

Was kommt dazu?



$$\underline{\quad} + \underline{\quad} = \underline{\quad}$$

Die Kinder helfen Tante Anna  
im Hühnerstall.



In eine Eierschachtel gehören immer **10 Eier**.


► Schreibe die passende Rechenaufgabe daneben.



$$7 + \square = 10$$



$$5 + \square = \square$$



$$\square + \square = \square$$



$$\square + \square = \square$$



Wie viele Beine siehst du?

- Wie viele Kühe und wie viele Gänse gehen hier spazieren? Überlege!






- Die Kinder denken sich Zahlen aus und machen Zahlenrätsel daraus. Löse sie!

Meine gesuchte Zahl ist das Doppelte von 2:

Meine Zahl ist die Hälfte von 10:

Meine Zahl ist um 3 größer als 5:

Meine Zahl ist um 4 kleiner als 9:

Meine Zahl erhältst du, wenn du das Doppelte von 2 noch einmal verdoppelst:

Setze die Zeichen  
> oder < oder = ein.  
Schreibe das **Ergebnis**  
darunter.



$$\underbrace{2 + 3}_5$$

$4 + 5$

$7 - 5$

$8 - 4$

$10 - 6$

$2 + 2$

$4 + 6$

$9 - 1$

$7 - 3$

$1 + 4$

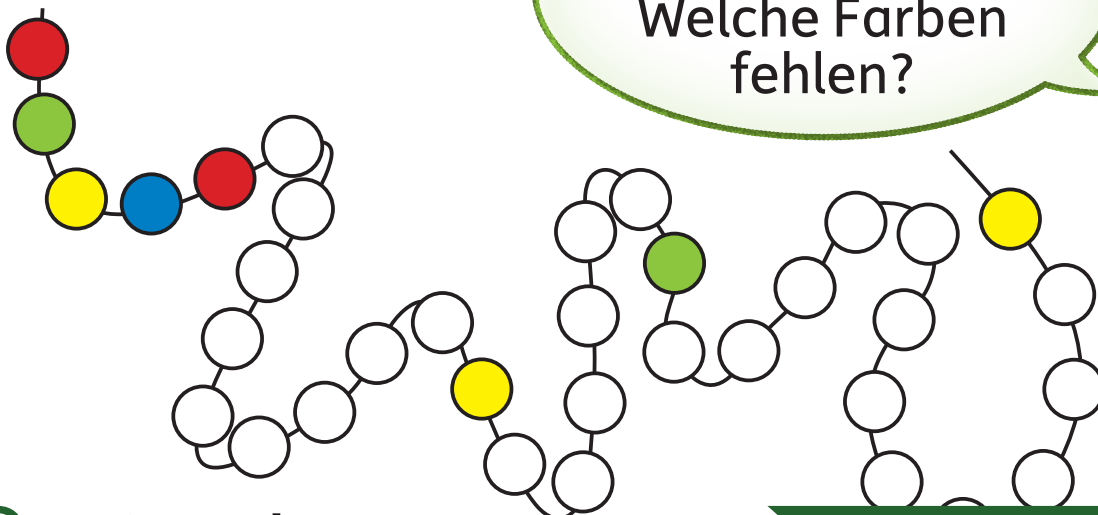
$10 - 5$

$3 + 3$

$4 + 4$

$3 - 3$

Ich habe  
eine Kette gemalt.  
Welche Farben  
fehlen?



# Weitere Lernhilfen aus dem Hauschka Verlag:

1. Klasse




2. Klasse



2. Klasse



2./3. Klasse



Aktuelle Titel unter [www.hauschkaverlag.de](http://www.hauschkaverlag.de)

## Quellenverzeichnis:

- S. 15 little british kittens cat © istockphoto.com
- S. 24/30 Ten Fingers © istockphoto.com
- S. 61 Kuh © Gregor Schmidpeter
- Alle übrigen Fotos: © Ingrid Hauschka-Bohmann


Hat Ihnen und Ihrem Kind die Lernhilfe gefallen? Dann freuen wir uns über eine positive Rezension auf [amazon.de](http://amazon.de)!

Falls Sie unzufrieden waren oder Anregungen haben, schicken Sie uns gerne eine E-Mail an: [info@hauschkaverlag.de](mailto:info@hauschkaverlag.de)

Weitere Informationen unter [www.hauschkaverlag.de](http://www.hauschkaverlag.de)

## 651 Mathe auf dem Bauernhof 1. Klasse

- spielerische Aufgaben im Zahlenraum bis 20
- mit herausnehmbarem **Lösungsteil** und **Rechenspiel**
- mit Rahmenthema Bauernhof
- liebevolle Illustrationen und Fotos



ISBN 978-3-88100-651-4



netzwerk  
lernen  
**hauschkaverlag**  
*einfach besser lernen*

zur Vollversion

9 783881 006514