


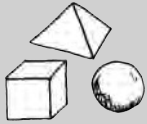
Flächenformen (1)

Name: _____

Aufgabe: Male alle Dreiecke rot, die Kreise grün, die Quadrate blau, die Rechtecke orange und die restlichen Formen gelb an.




Kreis (8 grün)
Quadrat (4 blau)
Dreieck (9 rot)
Rechteck (6 orange)
restliche Formen (16 gelb)



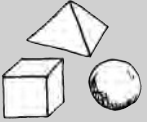
Flächenformen (2)

Name: _____

Aufgabe: Sieh dir das Bild an. Suche alle Formen heraus und schreibe ein „Q“ in Quadrate, „R“ in Rechtecke, „D“ in Dreiecke und „K“ in Kreise



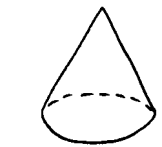
Rechtecke und Kreise ergeben zusammen 50, mit den Quadraten sind es 70 Formen, wenn man die Dreiecke davon abzieht, erhält man 61.



Körper (1)

Name: _____

Aufgabe: Betrachte die Körper und fülle die Tabelle aus.
Streiche die eingesetzten Zahlen im Kasten unten jeweils durch.

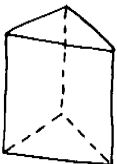
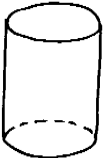
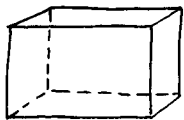
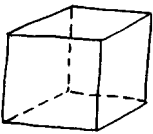


Kegel

1

1

2



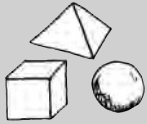
Summe:

28

44

28

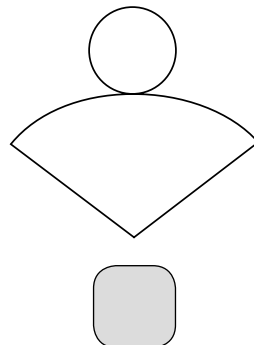
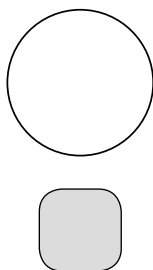
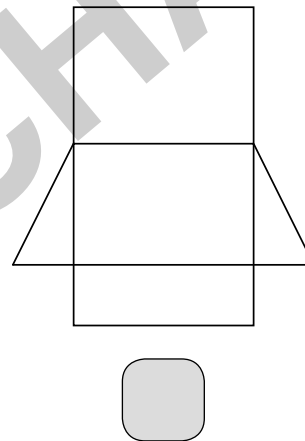
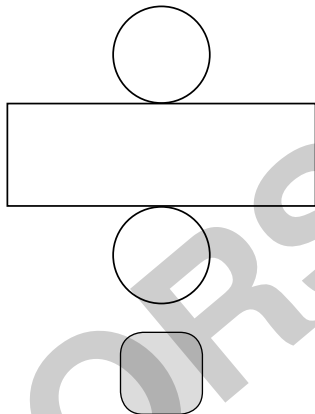
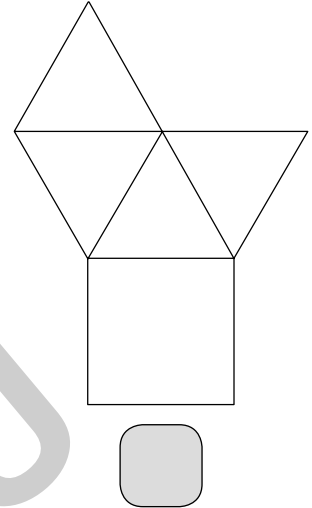
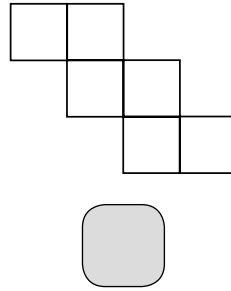
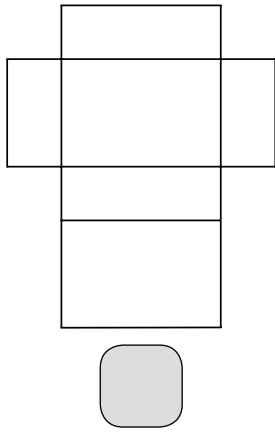
0	0	0	1	2	3	5	5	5
6	6	6	8	8	8	9	12	12



Körper (2)

Name: _____

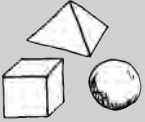
Aufgabe: Welche Körper kannst du aus den Netzen zusammensetzen? Ordne zu.



- Zylinder H
- Quader N
- Pyramide S
- Würfel A
- Kugel R
- Kegel N
- Prisma O

Lösung:






Körper (3)

Name: _____

Aufgabe: Ordne die Gegenstände den Körpern zu. Verbinde.

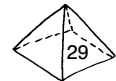


Würfel

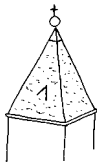


Quader

Zylinder

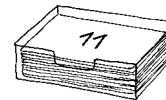

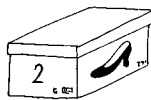
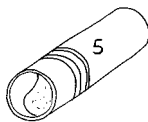


Kugel



Pyramide

Kegel



Addiere die Zahlen auf den Bildern. Bei jeder Körperform muss die Summe 30 ergeben, dann hast du alle Bilder richtig zugeordnet.