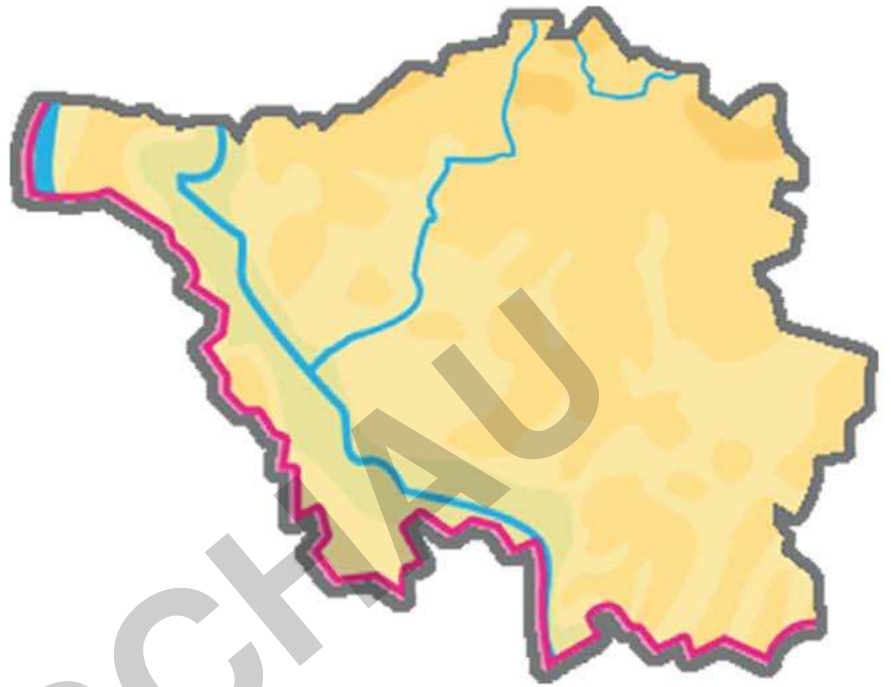



Mein Bundesland

Saarland



copyright 2010 mr-Kartographie - Ingenieurbüro und Verlag

Mein Bundesland SAARLAND	
Übersicht der Inhalte und Arbeitsmaterialien	13 Seiten
	incl. Lö
Inhalt Arbeitsblatt 1:	2
Abk. des Ländernamens	
Landeshauptstadt	
Lage des Bundeslandes	
angrenzende Nachbarländer	
Größe und Einwohner	
Inhalt Arbeitsblatt 2:	2
Gebirge	
höchster Berg	
Flüsse	
Städte	
Landschaften	
Lernzielkontrolle	2
Karten	
Lernkarte (blanco)	1
Lernkarte zu Arbeitsblatt 2	1
physische Karte	1
Wappen	
Landeswappen (sw)	1
Landeswappen (f)	1
RÄTSEL	



Mein Bundesland SAARLAND (1)

Abk.

S L



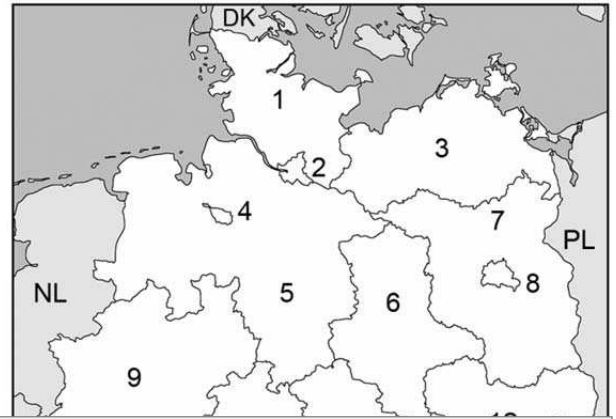
Landeshauptstadt

SB S 5610

Lage >

Nachbar in Deutschland

_____ ()



Nachbarn in

Arbeitsblatt 1

Die Schüler/-innen lernen

- die Abk. des Ländernamens
- Farbe und Symbol des Landeswappens
- die Landeshauptstadt
- wo das Bundesland liegt (Eintrag in Karte)
- die angrenzenden Bundesländer
- die europäischen Nachbarn

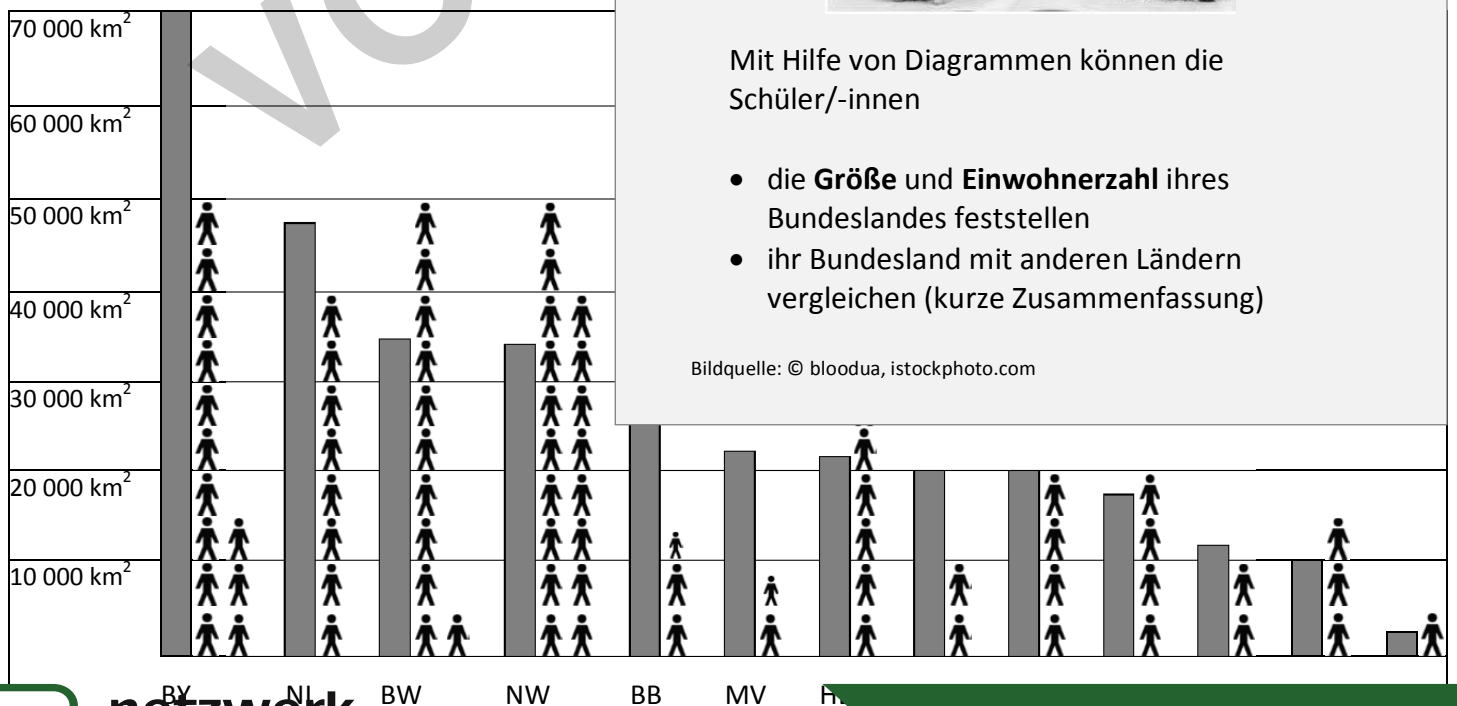


Fläche & Einwohner:

► Werte die Diagramm

Das Saarland ist (abgesehen von den Stadtstaaten) das _____ Bundesland.

Es hat ca. _____ Million Einwohner.



Mit Hilfe von Diagrammen können die Schüler/-innen

- die **Größe** und **Einwohnerzahl** ihres Bundeslandes feststellen
- ihr Bundesland mit anderen Ländern vergleichen (kurze Zusammenfassung)

Bildquelle: © bloodua, istockphoto.com

GEBIRGE

Zeichne das Gebirge braun ein und benenne es.

I Der _____

_____ ist eigentlich der südwestliche Teil des Hunsrücks im nördlichen Saarland.

..... m



Der höchste Berg

▲ _____

FLÜSSE

Wie heißen die Flüsse? (a – d)

a Die _____

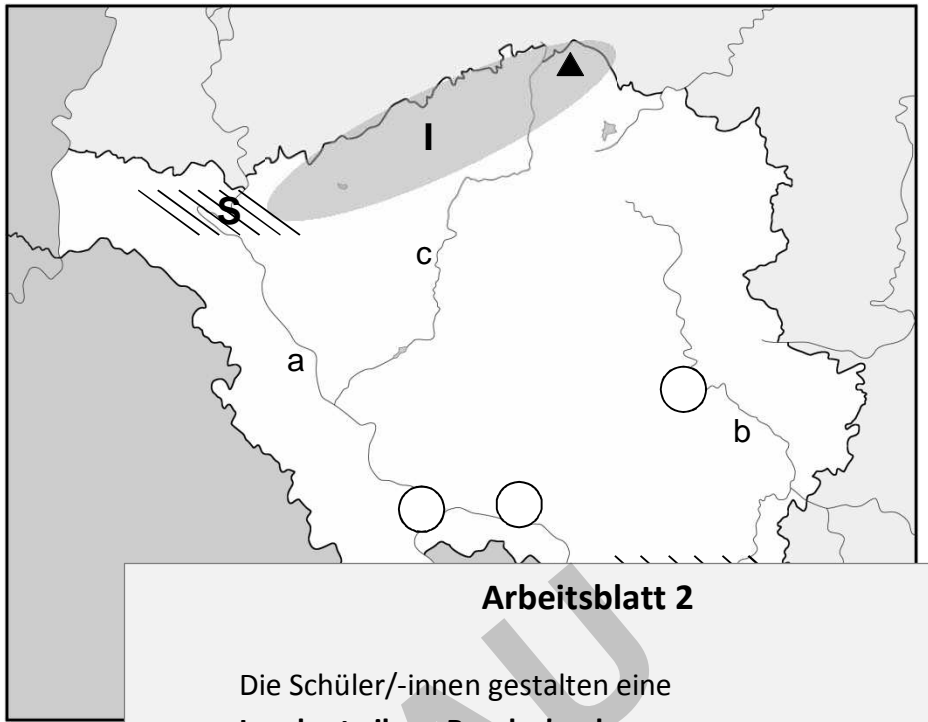
entspringt in Frankreich, bildet einen Teil der deutsch-französischen Grenze und fließt auf ca 70 km Länge durch das nach ihr benannte Saarland.

b Die _____

ist mit einer Länge von knapp 100 km der längste saarländische Fluss.

c Die _____

ist ein rechter Nebenfluss der Saar.



m/europa/germany/sarre/sarre09.pdf

Arbeitsblatt 2

Die Schüler/-innen gestalten eine Lernkarte ihres Bundeslandes:

- Sie erarbeiten sich mit dem Atlas topografisches Grundwissen: **Gebirge, Berge, Flüsse & Seen, Städte, Landschaften.**
- Sie zeichnen und tragen die Ergebnisse in die Karte oder ins Arbeitsblatt ein.

Wo

Tr

①

②

③

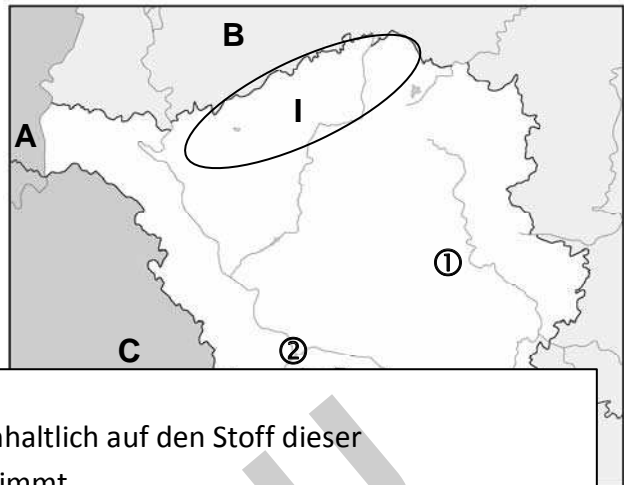


Bildquelle: © bloodua, istockphoto.com

1. Wie heißt das Gebirge I und sein höchster Berg?

I = _____

Höchster Berg: _____



2. Trage die Flüsse mit Buchstaben in die Karte ein.

a = Saar

b = Bl

3. Wie heißt

① _____

② _____

4. An welcher

a) Nacht

b) Nacht

c) Nacht

5. Wie wird

6. Wie heißt

7. Trage sie

8. Kreuze die

a) Das Saar

b) Das Saar

c) Die Saar

ist der längste saarländische Fluss entspringt in Frankreich bildet größtenteils die Grenze zu Frankr.

Die Lernzielkontrolle ist inhaltlich auf den Stoff dieser Unterrichtseinheit abgestimmt.

Sie liegt in zwei Dateiformaten vor:

- als PDF-Datei,
- als Word-Datei.

Änderungen erwünscht?

Nutzen Sie das Programm Word, so können Sie mit wenigen Mausklicks einzelne Aufgaben löschen, neue hinzufügen oder evtl. anders formulieren.

Dies ist problemlos möglich, da die Lernzielkontrolle als Tabelle angelegt ist und somit Änderungen das Layout nicht beeinträchtigen.

Mit der Funktion `Textfeld einfügen` lässt sich ebenso einfach die Karte beschriften.

Hinweis:

Die abgebildete Lernzielkontrolle zeigt beispielhaft den Aufbau, die Gestaltung und den Umfang (s. Punktezahl) des Leistungstest.

Wie gut kennt ihr euer Bundesland Saarland?

1. Welche Form hat das Saarland? Kreuze die richtige Antwort an.



a



b

2. Wo liegt das Bundesland? Kreuze die richtige Antwort an.

Es liegt im Norden in der Mitte

3. Welches Wappen hat das Bundesland?



a



b

4. Wie wird der Ländername abgekürzt?

S A A R L A N D

5. Wie heißt die Landeshauptstadt? _____

6. Welche Stadt liegt nicht im Saarland?

Neunkirchen Saarbrücken

7. Welche zwei Landschaften liegen in der Gegend?


Sauerland Wetterau

8. Das Saarland grenzt an ...

Frankreich Hessen

9. Welche Aussagen sind richtig?

- a) Das Saarland ist das zweitkleinste Bundesland.
- b) Das Saarland ist das kleinste Bundesland.
- c) Das Saarland hat 1 Million Einwohner.
- d) Der Dollberg heißt der höchste Berg des Saarlandes.



1/ __



1/ __

1/ __

Mit diesem Rätsel können die Schülerinnen und Schüler spielerisch ihr Wissen über ihr Bundesland wiederholen und testen.

1/ __

In 9 Aufgaben sollen sie

1/ __

1. ihr Bundesland an seiner Form erkennen,
2. die Lage beschreiben,
3. das richtige Wappen zuordnen,
4. den Landesnamen abkürzen,
5. die Hauptstadt nennen,
6. Städte dem Bundesland zuordnen,
7. Gebirge dem Bundesland zuordnen,
8. angrenzende Länder wissen,
9. Aussagen auf ihre Richtigkeit prüfen.

1/ __

2/ __

Das Rätsel kann in Einzel- oder Partnerarbeit durchgeführt werden.

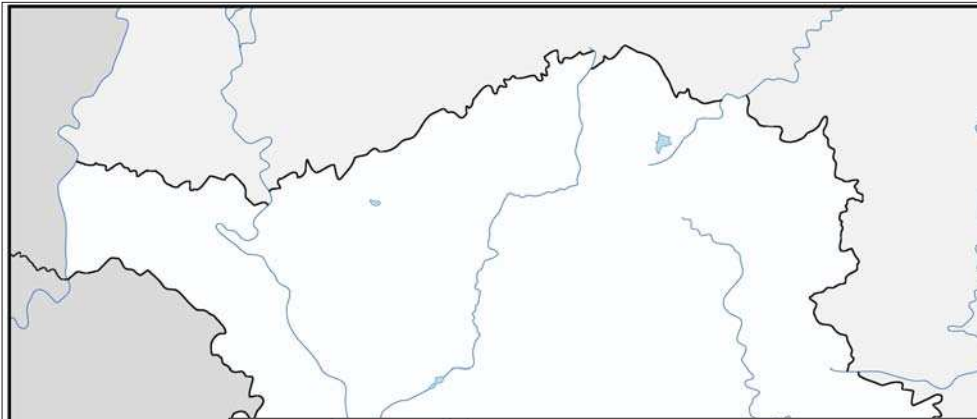
2/ __

Die Überprüfung der Lösungen (+ Bewertung) nehmen die Schüler/-innen in der Regel selbst mit Hilfe des Atlas vor.

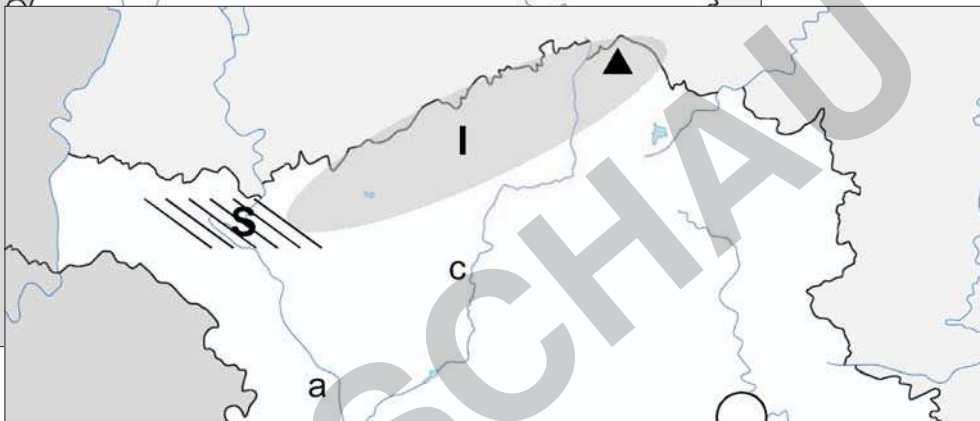
Bildquelle: © bloodua - istockphoto.com

Kartenmaterial

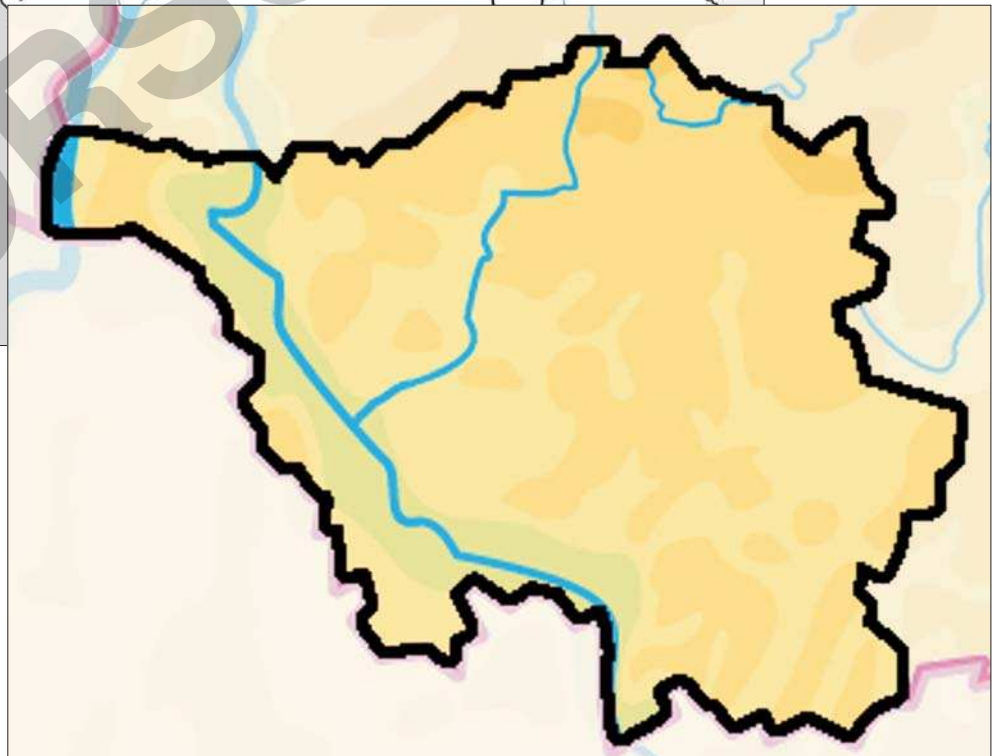
Lernkarte - blanco



Lernkarte zu Arbeitsblatt 2



physische Karte



Das Landeswappen

Die hochauflösenden Grafiken lassen sich skalieren
und in die gängigen Programme einfügen.

