

Inhalt

	<u>Seite</u>
Vorwort	3
Spanien	4-6
Portugal	7-9
Italien	10-12
Griechenland	13-15
Türkei	16-18
Malta	19-21
Andorra	22-24
San Marino	25-27
Vatikanstadt	28-30
Memo-Spiel	31-36

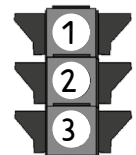
Vorwort

Liebe Kolleginnen und Kollegen,

Alle Schüler haben das gleiche Recht auf Bildung, ungeachtet ihrer Stärken und Schwächen. Das gehört zu den Kernanliegen der Inklusion und den Zielen der UN-Behindertenrechtskonvention, die seit 2009 in Deutschland gilt. Doch die Umsetzung der Inklusion fällt oft nicht leicht bzw. viele Lehrkräfte fühlen sich damit überfordert.

Passende Lehrmaterialien sind unter anderem eine entscheidende Voraussetzung für eine gelungene Inklusion bzw. um erfolgreich in der Schule lernen und lehren zu können. Mit unseren Arbeitsmaterialien möchten wir den Lehrkräften beim Beibringen des Lernstoffs für Inklusionskinder Hilfe leisten.

Die Materialien und Aufgaben dieses Heftes wurden so zusammengestellt, dass auch für Inklusionskinder ein intensives Üben des jeweiligen Themas möglich ist und so Lernziele erreicht werden können. Jedes Kind mit seinen besonderen Bedürfnissen bekommt einen Einblick in das Thema. Dabei wird folgendes Unterrichtskonzept eingehalten: Jedes Thema ist in drei Niveaustufen aufbereitet. Die Ampel deutet die Niveaustufen an: von 1 (grundlegendes Niveau) bis 3 (inhaltlich selbst erfassendes Niveau). Alle Kinder erarbeiten das gleiche Thema, jeder entsprechend seinem eigenen Niveau bzw. Leistungen.

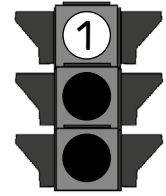


Viel Erfolg beim Einsatz unserer Kopiervorlagen im Unterricht wünschen Ihnen das Redaktionsteam des Kohl-Verlages und

Maika Schmidt


Name: _____

Klasse: _____



Spanien

Aufgabe 1: Male die Flagge von Spanien mit den richtigen Farben aus.
Das linke Bild hilft dir.

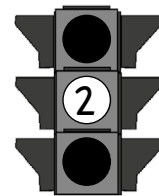


Aufgabe 2: Spanien ist bekannt für den Flamenco-Tanz. Zum Tanz gehört besondere Kleidung und Schuhe sowie Musikinstrumente und Fächer. Verbinde die gleichen Bilder zusammen.




Name: _____

Klasse: _____



Spanien

Aufgabe 1: Male die Flagge von Spanien mit den richtigen Farben aus.
Das linke Bild hilft dir.



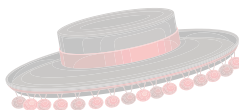
Aufgabe 2: Finde das passende Satzende. Verbinde mit einer Linie.

1. Das Land Spanien ist für seinen lebhaften ...



... allein oder auch mit einem Partner.

2. Zu Flamenco spielt man Gitarre ...



... und singt Lieder.

3. Flamenco war früher ein Frauentanz. Heute tanzt man Flamenco ...



... Flamenco-Tanz bekannt.

4. Hunderte Künstler kommen nach Spanien und ...



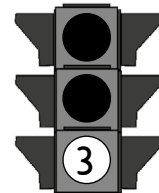
... in Spanien zu heiß.

5. Flamenco-Feste finden nachts statt. Am Tag

... nehmen an Flamenco-Festen teil.

Name: _____


Klasse: _____



Spanien

Aufgabe 1: Male die Flagge von Spanien mit den richtigen Farben aus.

Male dazu von oben nach unten:
rot - gelb - rot



Aufgabe 2: Fülle die Lücken mit den passenden Wörtern aus dem grauen Kasten unten.



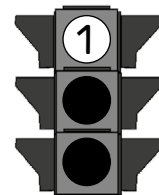
1. Das Land Spanien ist für seinen _____ Flamenco-Tanz bekannt.
2. Zu Flamenco spielt man Gitarre und singt _____.
3. Flamenco war früher ein Frauentanz. Heute tanzt man Flamenco allein oder mit einem _____.
4. Hunderte Künstler kommen nach _____ und nehmen an Flamenco-Festen teil.
5. Flamenco-Feste finden nachts statt. Am Tag ist es meist zu _____.
6. Beim Flamenco -Tanz tragen die Frauen meist bodenlange weite _____ mit Rüschen.

Spanien – Röcke – lebhaften –
heiß – Lieder – Partner




Name: _____

Klasse: _____






San Marino

Aufgabe 1: Male die Flagge von San Marino mit den richtigen Farben aus.
Das linke Bild hilft dir.

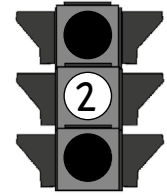


Aufgabe 2: Der Zwergstaat San Marino liegt in einer hügeligen Gegend.
Der höchste Berg ist der Titano. Bei diesem Bild des Berges
Titano fehlen drei Teile. Schneide sie aus und klebe an die
richtigen Stellen an.




Name: _____

Klasse: _____



San Marino

Aufgabe 1: Male die Flagge von San Marino mit den richtigen Farben aus.
Das linke Bild hilft dir.



Aufgabe 2: Was gehört zusammen?
Verbinde die passenden Texte und Bilder.

San Marino liegt innerhalb von Italien. Hier gibt es viele, mit Wald bedeckten, Hügeln.

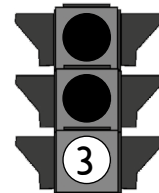
Der Mittelpunkt San Marinos ist der Berg Titano, der knapp 740 hoch. Oben am Rand des Titanos ist eine Burg. Sie ist über 1000 Jahre alt.

Über 2 Millionen Touristen kommen nach San Marino im Jahr. Viele fahren mit dem Rad oder wandern in den hügeligen Landschaften San Marinos.




Name: _____

Klasse: _____



San Marino



Aufgabe 1: Male die Flagge von San Marino mit den richtigen Farben aus.
Male dazu von oben nach unten:
weiß - hellblau

Aufgabe 2: Lies den Text und setze die passenden Wörter aus dem grauen Kasten in die Lücken ein.



San Marino ist ein Zwergstaat. Es ist klein und liegt innerhalb von Italien. Hier gibt es viele mit Wald bedeckte Hügel. Der höchste Punkt San Marinos ist der Berg Titano. Oben am Gipfel des Titano ist eine Burg. Sie ist über 1000 Jahre

alt. Über 2 Millionen Touristen kommen jedes Jahr nach San Marino. Viele von ihnen wandern durch die hügeligen Landschaften San Marinos.



San Marino ist ein _____ Land. San Marino liegt innerhalb von _____ . Die Landschaft hier ist _____. Der höchste Berg ist der _____. Oben am Rand des Berges Titano gibt es eine alte _____. Viele Touristen besuchen jedes Jahr _____ .

Titano – hügelig – Burg – San Marino – Italien – kleines